

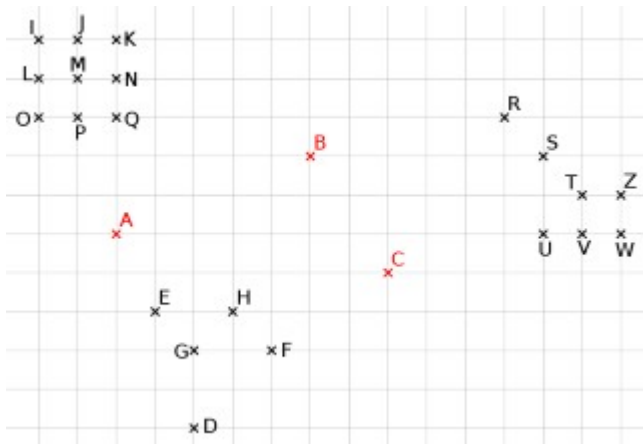
## Questions flash n°15 - parallélogrammes

### Question 1

/ 1

ABC? est un parallélogramme.

Quel est le point qui correspond au point d'interrogation "?" ?

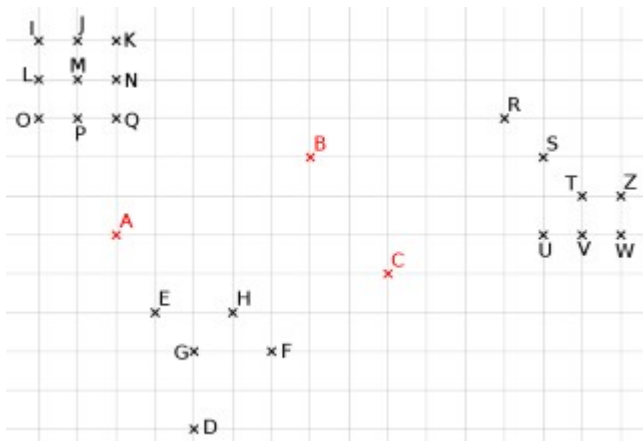



### Question 2

/ 1

ACB? est un parallélogramme.

Quel est le point qui correspond au point d'interrogation "?" ?

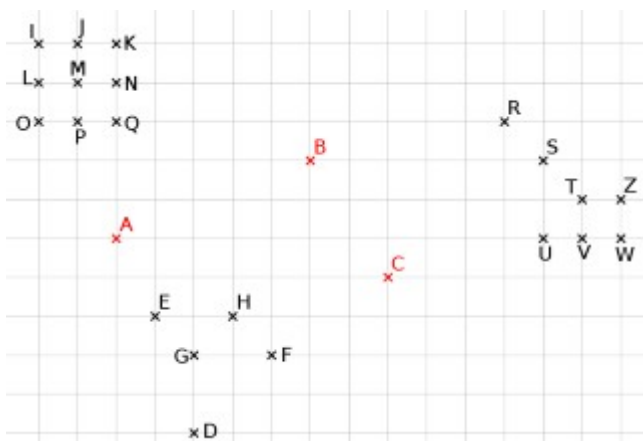



### Question 3

/ 1

AC?B est un parallélogramme.

Quel est le point qui correspond au point d'interrogation "?" ?



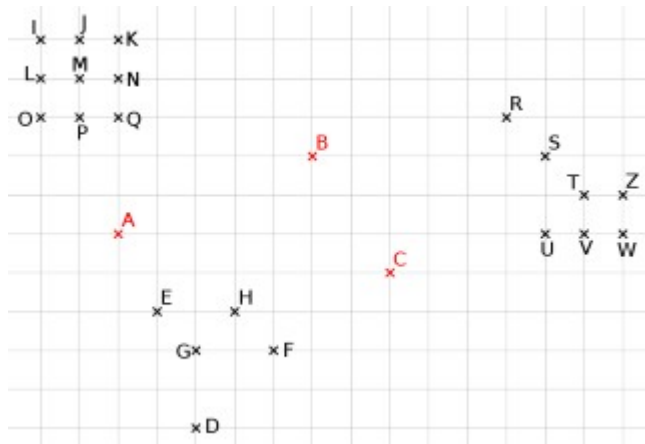
## Questions flash n°15 - parallélogrammes

### Question 4

/ 1

AEV? est un parallélogramme.

Quel est le point qui correspond au point d'interrogation "?" ?

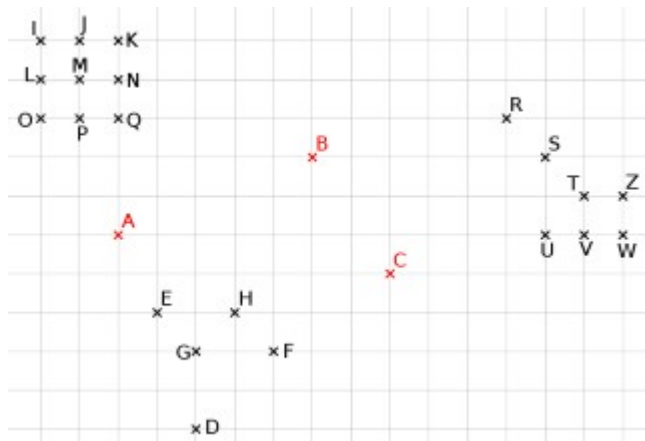



### Question 5

/ 1

K?DO est un parallélogramme.

Quel est le point qui correspond au point d'interrogation "?" ?

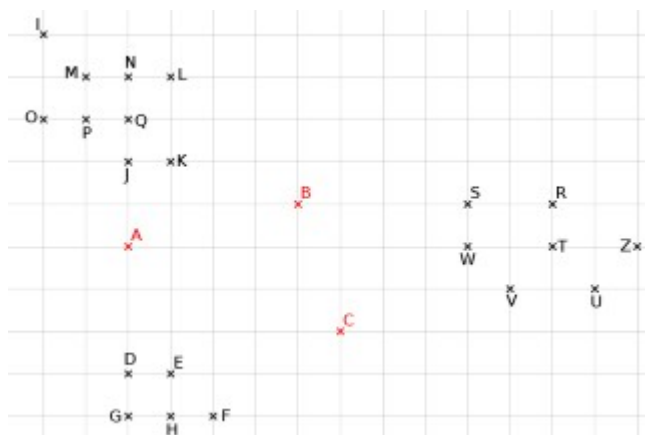



### Question 6

/ 1

ABC? est un parallélogramme.

Quel est le point qui correspond au point d'interrogation "?" ?



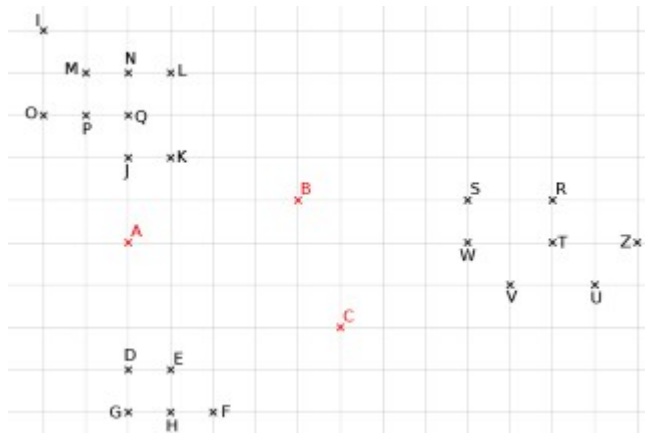
## Questions flash n°15 - parallélogrammes

### Question 7

/ 1

AB?C est un parallélogramme.

Quel est le point qui correspond au point d'interrogation "?" ?

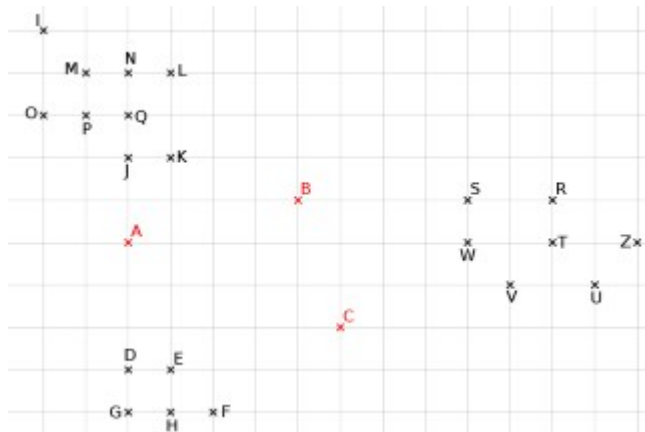



### Question 8

/ 1

B?AC est un parallélogramme.

Quel est le point qui correspond au point d'interrogation "?" ?

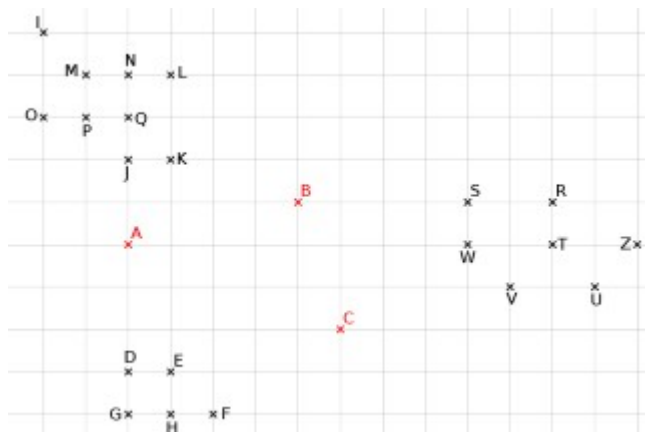



### Question 9

/ 1

NKU? est un parallélogramme.

Quel est le point qui correspond au point d'interrogation "?" ?



## Questions flash n°15 - parallélogrammes

### Question 10

/ 1

D?TS est un parallélogramme.

Quel est le point qui correspond au point d'interrogation "?" ?

